

**Information Technology**  
**Sample Questions**  
Std 9 : Tamil Medium

பகுதி 1 : மிகப் பொருத்தமான ஒரு விடையைத் தெரிவு செய்க .

1. இமேஜ் எடிட்டிங் சாப்ட்வேரில் படத்தினுடைய அளவு காண பயன்படுத்தும் யூனிட்களில் உட்படாதது எது?

**Answer Options**

- A. millimeters
- B. bytes
- C. pixels
- D. points

**Correct Answer:** B. bytes

2. கணினியில் சேவ்செய்யப்பட்டுள்ள படங்களின் சில பகுதிகளை சேர்த்து ஒருபுதிய படம் உருவாக்க வேண்டும். கீழே தரப்பட்டுள்ளவற்றுள் அதற்குப் பொருத்தமான மென்பொருள் எது?

**Answer Options**

- A. லிபர் ஆப்பீஸ் கேல்க்
- B. கிரிதா
- C. ஜியோஜிப்ரா
- D. அடாசிட்டி

**Correct Answer:** B. கிரிதா

3. ஜிம்பில் வர்ஷா உருவாக்கிய லோகோ, முன்பு உருவாக்கிய போஸ்டரில் உட்படுத்த முயன்றபோது லோகோவின் காட்சி போஸ்டரில் காட்சிப்படவில்லை. இது சரிசெய்யக் கீழே அளித்துள்ள எந்த செயல்பாட்டை செய்யவேண்டும்?

**Answer Options**

- A. Copy Visible நுட்பம் பயன்படுத்த வேண்டும்
- B. Select by Color கருவி பயன்படுத்த வேண்டும்
- C. Blur கருவி பயன்படுத்தினால் போதும்.
- D. Blend கருவி பயன்படுத்தினால் போதும்.

**Correct Answer:**

- A. Copy Visible நுட்பம் பயன்படுத்த வேண்டும்

4. ஜிம்ப் கேன்வாசுக்கு படங்கள் பேஸ்ட் செய்யும்போது வரும் லேயர்களை அழைக்கும் பெயர் எது ?

#### Answer Options

- A. புளோட்டிங் லேயர்கள்.
- B. டூப்ளிகேட் லேயர்கள்.
- C. ஸ்கேல் லேயர்கள்.
- D. ஆட்டோகிராப் லேயர்கள்.

Correct Answer: A. புளோட்டிங் லேயர்கள்.

5. ஜிம்ப் மென்பொருளில், புளோட்டிங் லேயரிலுள்ள படம் ஒருலேயருக்கு சேர்க்க கீழே தரப்பட்டுள்ளவற்றுள் எந்த செயல்பாட்டை செய்யவேண்டும்?

#### Answer Options

- A. மூவ் டூலில் சொடுக்கு (கிளிக்) செய்க.
- B. ஸ்கேல் டூலில் சொடுக்கு (கிளிக்) செய்க.
- C. ஆங்கர் டூலில் சொடுக்கு (கிளிக்) செய்க.
- D. ஏதாவது செலக்ஷன் டூலில் சொடுக்கு (கிளிக்) செய்க.

Correct Answer: C. ஆங்கர் டூலில் சொடுக்கு (கிளிக்) செய்க.

6. வரட்சியுடன் தொடர்புடைய ஒரு புரோஜக்ட் ரிப்போர்ட் தட்டச்சு செய்ய தரப்பட்டுள்ளனதில் எந்த சாப்ட்வேர் பொருத்தமானது?

#### Answer Options:

- A. ஜிம்ப்
- B. லிபர்ஆப்பீஸ் ரைட்டர்
- C. ஸ்கிராச்சு
- D. ஜியோஜிப்ரா

Correct Answer:

- B. லிபர்ஆப்பீஸ் ரைட்டர்

7. ஒருகவிதை லிபர்ஆப்பீஸ் ரைட்டரில் டைப் செய்து தயாரித்து. இதில் வரிகளுக்கிடையிலுள்ள அகலம் ஒழுங்குபடுத்த தரப்பட்டுள்ளவற்றுள் எந்த நுட்பம் இதற்காக பயன்படுத்த முடியும் ?

Answer Options:

- A. Bullets and Numbering
- B. Character Formating
- C. Page Formating
- D. Paragraph Formating

Correct Answer:

- D. Paragraph Formating

8. லிபர்ஆப்பீஸ் ரைட்டரில் உருவாக்கிய கடிதத்தின் தலைப்புத் தடிமன் கூட்டி (Bold) அடிக்கோடு இட வேண்டும். தரப்பட்டுள்ளதில் எந்த நுட்பம் இதற்காக பயன்படுத்த முடியும் ?

Answer Options:

- A. Bullets and Numbering
- B. Character Formating
- C. Page Formating
- D. Paragraph Formating

Correct Answer:

- B. Character Formating

9. லிபர்ஆப்பீஸ் ரைட்டரில் உருவாக்கிய ஒருகோப்பின் பக்கத்துக்கு பார்டர் தரப்பட்டுள்ளது. பார்டரில் இருந்து எத்தனை அகலம் விட்டு சொற்கள் வரவேண்டும் என்று ஒழுங்குபடுத்த பேஜ் ஸ்டைல் சாளரத்தில் எந்த நுட்பம் பொருத்தமானது?

Answer Options:

- A. Spacing to Contents
- B. Line Arrangements
- C. Indents & Spacing
- D. Shadow Style

Correct Answer:

A. Spacing to Contents

10. லிபர்ஆப்பீஸ் ரைட்டரில் எல்லா பக்கத்திலும் மேல் பகுதியில் பள்ளியினுடைய பெயர் உட்படுத்த வேண்டும். இதற்கு பொருத்தமான நுட்பம் தரப்பட்டுள்ளவற்றுள் எது?

Answer Options:

- A. Borders
- B. Columns
- C. Header
- D. Footer

Correct Answer:

C. Header

11. கீழே தரப்பட்டுள்ளவற்றுள் இ-மெயில் என்பதன் முழு வடிவம் எது?

Answer Options

- A இணையம்(இன்டர்நெட்) மெயில்
- B எலக்ட்ராணிக் மெயில்
- C எலக்ட்ரிக்கல் மெயில்
- D எமர்ஜன்சி மெயில்

Correct Answer: B எலக்ட்ராணிக் மெயில்

12. டெல்லியிலுள்ள பூஜாவுக்கு சுற்றுலா குறித்த தகவல்களை இமெயில் வழி அனுப்பத் தேவையானது,

Answer Options

- A பூஜாவுடைய முழு இ-மெயில் முகவரி தேவை.
- B பூஜாவுடைய இ-மெயில் பயனாளிப் பெயரும் கடவுச்சொல்லும் தேவை.
- C இடத்தின் பின்கோடும் தொலைபேசி எண்ணும் தேவை.
- D இ-மெயில் சேவையளிப்பவருடைய சர்வர் உள்ள இடம் தேவை.

Correct Answer: A பூஜாவுடைய முழு இ-மெயில் முகவரி தேவை.

13. தரப்பட்டுள்ளனவற்றுள் இ-மெயில் சேவையுடன் தொடர்புடைய தவறான கூற்று எது?

#### Answer Options

- A . இ-மெயில் வழி படம், வீடியோ, ஒலிகோப்புகள் போன்றவை கையளிக்கலாம்.
- B . ஜிமெயிலில் அனுப்பும் மெயில்கள் திறந்துபடிக்க பெறுனருக்கு ஜிமெயில் அக்கவுண்டு கட்டாயம் தேவை.
- C . இடத்தின் போஸ்டல் இன்டக்ஸ் நம்பர் தேவையில்லை.
- D . ஒன்றைவிட கூடுதல் பேருக்கு ஒரு இ-மெயில் ஒரே நேரத்தில் அனுப்பலாம்.

#### Correct Answer:

- B ஜிமெயிலில் அனுப்பும் மெயில்கள் திறந்துபடிக்க பெறுனருக்கு ஜிமெயில் அக்கவுண்டு கட்டாயம் தேவை.

14. பள்ளி ஐ.டி கிளப்பினுடைய முதல் அமர்வின் முடிவுப்படி பள்ளி குறித்த தகவல்கள் இணையத்தில் உட்படுத்த கீழே தரப்பட்டுள்ளனவற்றுள் எந்த இணையதளம் பயன்படுத்தலாம்?

#### Answer Options

- A <http://ml.wikisource.org>
- B <http://ml.wiktionary.org>
- C <http://ml.wikiquote.org>
- D <http://schoolwiki.in>

Correct Answer: D <http://schoolwiki.in>

15. சதுரத்தினுடைய பரப்பளவு காண்பதற்கான ஒருபுரோகிராம், பைத்தன் மென்பொருள் பயன்படுத்தி உருவாக்கப்பட்டது. கீழே கொடுக்கப்பட்டுள்ளவற்றுள் எதுவாக இருக்கும் அந்த புரோகிராம் கோப்பு ?

- A area.py
- B area.jpg
- C area.pdf

D area.ods

Correct Answer: .....

A area.py

16. பைத்தன் புரோகிராமில் 1 முதல் 49 வரையுள்ள எண்ணல் எண்களை உட்படுத்த பயன்படுத்தும் ரேஞ் கூட்டளை எது?

A range(49)

B range(50)

C range(1,49)

D range(1,50)

Correct Answer: .....

D range(1,50)

17. பைத்தன் ஷெல் சாளரத்தில் `list(range(5,10))` என்று அளித்து ஷெல் செய்தால் கிடைக்கும் வெளியீடு (அவுட்புட்) என்னவாக இருக்கும்?

A [5, 10]

B [5, 7, 9]

C [5, 6, 7, 8, 9]

D [5, 6, 7, 8, 9, 10]

Correct Answer: ..... C [5, 6, 7, 8, 9]

18. IDLE என்பது

A ஒருபுரோகிராமிங் மொழி.

B ஒருஆப்பரேட்டிங் சிஸ்டம் தான்.

C ஒருIDE சாப்ட்வேர்தான்

D ஒருபைனரி மொழி.

Correct Answer: .....

C ஒருIDE சாப்ட்வேர்தான்

19.

```
x=eval(input("Enter a number : "))
```

```
y=2*x-5
```

```
print(y)
```

பைத்தன் புரோகிராமிங் மொழியில் தயாரித்த ஒருபுரோகிராம் தரப்பட்டுள்ளது. இந்த புரோகிராம் செயல்படுத்தும்போது அளிக்கும் உள்ளீடு 10 எனில் கிடைக்கும் வெளியீட்டு (அவுட்புட்) என்னவாக இருக்கும்?

A 10

B 15

C 20

D 25

Correct Answer: .....

B 15

20. கீழே தரப்பட்டுள்ளனவற்றுள் புவியோட்டுத் தட்டுகளை சிமுலேஷன் மூலம் காட்டுவதற்கான ஒரு சாப்ட்வேர்தான்

A Stellarium

B RasMol

C GPlates

D Gimp

Correct Answer:

C GPlates

21. ஜியோஜிப்ரா மென்பொருளில் 1, 2, 3, 4 போன்ற மதிப்புகள் பெறும் a என்ற மாறியை ஆரமாகக் கொண்ட வட்டம் உருவாக்கியதற்கு அனிமேஷன் அளித்தபோது நான்கு வட்டங்கள் ஒவ்வொன்றாக காட்சியளித்தன. இவையனைத்தும் ஒரே பொழுது காட்சிப்படுத்த எந்த நுட்பம் பயன்படுத்த வேண்டும்?

- A Move around Point
- B Circle through 3 Points
- C Dilate from Point
- D Trace On

Correct Answer: D Trace On

22. ஜி பிளேட்ஸ் மென்பொருளில் உற்றுநோக்கும் புவித்தட்டுகளின் விளக்கங்கள் தெரிந்துகொள்வதற்கான ஒரு முக்கிய கருவியான இது என்ன ?



- A Digitisation
- B Move Vertex
- C Measure
- D Feature Inspection

Correct Answer:

- D Feature Inspection

23. கீழே தரப்பட்டுள்ளனவற்றுள் ஜி பிளேட்ஸ் மென்பொருளில் உற்றுநோக்கும் சிமுலேஷன்களை பட வடிவிற்கு மாற்ற பயன்படுத்தும் நுட்பம்.

Answer Options

- A Import
- B Export
- C Open Project
- D Open Feature Collection

Correct Answer:

- B Export



24. கீழே தரப்பட்டுள்ளனவற்றுள் ஜிபிளேட்ஸ் புரோஜக்ட் கோப்பு எது?

Answer Options

A volcanoes. gpml

B volcanoes. gproj

C volcanoes. svg

D volcanoes. png

Correct Answer:

B volcanoes. gproj

பகுதி 2 : மிகப் பொருத்தமான இரண்டு பதில்களைத் தெரிவு செய்க .

1. ஜிம்ப் மென்பொருளில் நிலவிலுள்ள ஒருலேயருக்குப் புதிய பெயர் அளிப்பதற்கான சரியான செயல்பாட்டு வரிசை கீழே தரப்பட்டுள்ளனவற்றுள் இருந்து தெரிவு செய்க.

Answer Options

- A. **Layers Palette** திறந்துபெயர் அளிப்பதற்கான லேயரில் வலது சொடுக்கு (கிளிக்) செய்க.
- B. **Layers Palette** திறந்துபெயர் அளிப்பதற்கான லேயரில் சொடுக்கு (கிளிக்) செய்க.
- C. லேயர் மெனுவில் இருந்து நியூ லேயர் தெரிவு செய்க.
- D. **Edit Layer Attribute** தெரிவு செய்து திறந்துவரும் சாளரத்தில் புதிய பெயர் அளிக்கவும்.
- E. **New Layer group** தெரிவு செய்து புதிய பெயர் அளிக்கவும்.

Correct Answer:

- A. **Layers Palette** திறந்துபெயர் அளிப்பதற்கான லேயரில் வலது சொடுக்கு (கிளிக்) செய்க.
- D. **Edit Layer Attribute** தெரிவு செய்து திறந்துவரும் சாளரத்தில் புதிய பெயர் அளிக்கவும்.



2. ஜிம்ப் மென்பொருள் பயன்படுத்தி, உருவாக்கிய போஸ்டரில் உட்படுத்திய படத்தில் ஒருபகுதி தெளிவு குன்றச்செய்ய கீழே தரப்பட்டுள்ளவற்றுள் பொருத்தமான செயல்பாட்டு வரிசை தெரிவு செய்க?


Answer Options

- A. படம் உட்படுத்திய லேயர் தெரிவு செய்து தெளிவு குன்றச்செய்ய வேண்டிய பகுதி தெரிவு செய்க.
- B. படம் உட்படுத்திய லேயர் தெரிவு செய்து தெளிவு குன்றச்செய்ய வேண்டிய பகுதி தவிர உள்ள பகுதியை தெரிவு செய்க.
- C. படம் உட்படுத்திய லேயர் தெரிவு செய்து **Duplicate** எடுக்கவும்
- D. **Filters** மெனுவில் **Blur** சப்மெனுவில் **Blur** ல் சொடுக்கு (கிளிக்) செய்க
- E. **Tools** மெனுவில் **Filters** சப் மெனுவில் **Blur** ல் சொடுக்கு (கிளிக்) செய்க

- Correct Answer: A. படம் உட்படுத்திய லேயர் தெரிவு செய்து தெளிவு குன்றச்செய்ய வேண்டிய பகுதி தெரிவு செய்க.
- D. **Filters** மெனுவில் **Blur** சப்மெனுவில் **Blur** ல் சொடுக்கு (கிளிக்) செய்க.

3. எந்தஒரு இமேஜ் எடிட்டிங் மென்பொருளினுடையவும் பிரிக்க இயலாத பகுதியே லேயர்கள். ஜிம்ப் மென்பொருளில் புதிய ஒருலேயரை எப்படியெல்லாம் உருவாக்கலாம் ?

- A. லேயர்  பேலட்டில் ஐக்கணில் சொடுக்கு (கிளிக்) செய்க.
- B. லேயர் மெனுவில் டீப்ளிகேட் லேயர் என்றதில் சொடுக்கு (கிளிக்) செய்க.
- D. லேயர் மெனுவில் இருந்து நியூ லேயர் தெரிவுசெய்க.
- E. லேயர்  பேலட்டில் ஐக்கணில் சொடுக்கு (கிளிக்) செய்க.

Correct Answer: A. லேயர்  பேலட்டில் ஐக்கணில் சொடுக்கு (கிளிக்) செய்க.

D. லேயர் மெனுவில் இருந்து நியூ லேயர் தெரிவு செய்க.

4. லிபர்ஆப்பீஸ் ரைட்டரில் விபின் ஒருபுரோஜக்ட் ரிப்போர்ட் தயாரித்து இதனுடைய எல்லாபக்கத்திலும் மேலே 'புவி வெப்பமடைதல்' என்றும் மிக கீழே பேஜ் நம்பரும் உட்படுத்த வேண்டும். தரப்பட்டுள்ளதில் எந்த நுட்பங்கள் இதற்கு பயன்படுத்த முடியும் ?

Answer Options

- A. Borders
- B. Columns
- C. Header
- D. Area
- E. Footer

Correct Answers:

- C. Header
- E. Footer

5. லிபர்ஆப்பீஸ் ரைட்டரில் உருவாக்கிய கோப்பில் ஒருபடம் உட்படுத்தப்படுகிறது. அதற்கான இரண்டு முறைகள் தரப்பட்டுள்ளனவற்றுள் இருந்து தெரிவு செய்க.

#### Answer Options

- A. Text Box கருவி சொடுக்கு (கிளிக்) செய்க.
- B. Image கருவி சொடுக்கு (கிளிக்) செய்க.
- C. Chart கருவி சொடுக்கு (கிளிக்) செய்க.
- D. Insert மெனுவில் Image ல் சொடுக்கு (கிளிக்) செய்க.
- E. Insert மெனுவில் Text Box ல் சொடுக்கு (கிளிக்) செய்க.

#### Correct Answers:

- B. Image கருவி சொடுக்கு (கிளிக்) செய்க
- D. Insert மெனுவில் Image ல் சொடுக்கு (கிளிக்) செய்க.

6. லிபர்ஆப்பீஸ் ரைட்டரில் உருவாக்கிய ஒருகோப்பில் படம் சொல்களின் இடையிலாக ஒழுங்குபடுத்த. இதற்கு பொருத்தமான இரண்டு நுட்பங்கள் தரப்பட்டுள்ளனவற்றுள் இருந்து தெரிவு செய்க.

#### Answer Options

- A. No wrap
- B. Page wrap
- C. Header
- D. Footer
- E. Optimal Page wrap

#### Correct Answers:

- B. Page wrap
- E. Optimal Page wrap

7. இ-மெயில் சேவையளிப்பவர்களை தெரிவு செய்க.

Answer Options

- A. பள்ளி விக்கி
- B. கூகிள்
- C. பயர்பாக்ஸ்
- D. யாஹூ
- E. யூடியூப்

Correct Answers: B கூகிள்

D யாஹூ

8. சைபர் பாதுகாப்பு தொடர்புடைய சில தொழில்நுட்ப சொற்கள் கீழே தரப்பட்டுள்ளன. அவற்றுள் சைபர் குற்றங்களைத் தெரிவு செய்க.

Answer Options

- A செர்ச்சிங்
- B சைபர் ஸ்க்வாட்டிங்
- C டிவிட்டிங்
- D சர்பிங்
- E பிஷிங்

Correct Answers: B சைபர் ஸ்க்வாட்டிங்

E பிஷிங்

9. விக்கிநிருவனங்களின் உள்ளடக்கத்துடன் தொடர்புடைய சில கூற்றுகள் தரப்பட்டுள்ளன. அவற்றுள் சரியானவற்றை தெரிவு செய்க.

Answer Options

- A இவற்றுள் தகவல்கள் உட்படுத்தப்படுத்துவது தெரிவுசெய்யப்பட்ட நபர்களே.
- B பயனாளி பெயர் உள்ளவருக்கு மட்டுமே விக்கிநிருவனங்கள் பயன்படுத்த முடிகிறது.
- C விக்கிநிருவனங்களின் உள்ளடக்கம் இலவசமானது.

- D இவற்றுள் உள்ள படங்களுக்கு எந்த வகைப்பட்ட பொருப்பும் நன்றியும் குறிப்பிட வேண்டியதில்லை.
- E விக்கிநிறுவனங்களில் யாருக்கும் திருத்தல்கள் செய்யலாம்.

Correct Answers: C விக்கிநிறுவனங்களின் உள்ளடக்கம் இலவசமானது.  
E விக்கிநிறுவனங்களில் யாருக்கும் திருத்தல்கள் செய்யலாம்.

10. ஒருபைத்தன் புரோகிராமில் 5, 10, 15, 20, 25, 30 போன்ற எண்களை உட்படுத்த பயன்படும் கூட்டளைகள் எவை ?

- A range(5,30)  
B range(5,30,5)  
C range(5,31)  
D range(5,31,5)  
E range(5,35,5)

Correct Answer: .....

- D range(5,31,5)  
E range(5,35,5)

11. பைத்தன் ஷெல்லில் 45 என்ற வெளியீட்டு (அவுட்புட்) கிடைக்க , கீழே கொடுக்கப்பட்டுள்ளவற்றுள் எந்தெந்த பைத்தன் புரோகிராம்கள் பயன்படுத்தலாம்.

- A print("4"+"5")  
B print("40"+"5")  
C print(40+5)  
D print("40"+"05")  
E print(4\*5)

Correct Answer: .....

- A print("4"+"5")  
C print(40+5)

12. பைத்தன் புரோகிராமில் 50 க்கும் 200 க்கும் இடையிலுள்ள 5 உடைய மடங்குகளை குறிப்பிட பயன்படும் ரேஞ் கட்டளைகள் எவை?

- A range(50,201,5)
- B range(2,200)
- C range(50,200,5)
- D range(2,201)
- E range(50,199,5)

Correct Answer: .....

- C range(50,200,5)
- E range(50,199,5)

13. கீழே தரப்பட்டுள்ளவற்றுள் ஸ்டெல்லேரியம் சாப்ட்வேரில் சூரியவட்டம் காட்சிப்படுத்த செய்யவேண்டிய செயல்பாடுகள் எவை ?

Answer Options

- A ஸ்டேட்டஸ் பட்டையில் Constellation lines என்ற டூலில் சொடுக்கு (கிளிக்) செய்க
- B கருவி பட்டையில் Sky and viewing options window சொடுக்கு (கிளிக்) செய்க
- C Markings டேபில் Celestial Sphere லிஸ்டில் Ecliptic (of date) சொடுக்கு (கிளிக்) செய்து சாளரம் குளோஸ் செய்க.
- D ஸ்டேட்டஸ் பட்டையில் Constellation art சொடுக்கு (கிளிக்) செய்க.
- E கருவி பட்டையில் Search window யில் சொடுக்கு (கிளிக்) செய்க

Correct Answers:

- B கருவி பட்டையில் Sky and viewing options window சொடுக்கு (கிளிக்) செய்க
- C Markings டேபில் Celestial Sphere லிஸ்டில் Ecliptic (of date) சொடுக்கு (கிளிக்) செய்து சாளரம் குளோஸ் செய்க.

14. ஸ்டெல்லேரியம் சாப்ட்வேரில் லியோ (Leo) என்ற விண்மீன் கூட்டங்களை உற்றுநோக்கச் செய்யவேண்டிய செயல்பாடுகள் எவை?

#### Answer Options

- A கருவி பட்டையில் Sky and viewing options window சொடுக்கு (கிளிக்) செய்க
- B தொடர்ந்து வரும் Markings டேபில் Celestial Sphere லிஸ்டில் Ecliptic (of date) சொடுக்கு (கிளிக்) செய்து சாளரம் குளோஸ் செய்க
- C கருவி பட்டையில் Search window பயன்படுத்தி Leo என்ற விண்மீன் கூட்டங்களை தேடவும்
- D கருவி பட்டையில் Configuration window யிலுள்ள Main டேபில் Sky Culture Language மாற்றுக
- E ஸ்டேட்டஸ் பட்டையில் Constellation art கருவி சொடுக்கு (கிளிக்) செய்க.

#### Correct Answers:

- C கருவி பட்டையில் Search window பயன்படுத்தி Leo என்ற விண்மீன் கூட்டங்களை தேடவும்.
- E ஸ்டேட்டஸ் பட்டையில் Constellation art கருவி சொடுக்கு (கிளிக்) செய்க.

15. கீழே தரப்பட்டுள்ளனவற்றுள் இருந்து ஜி பிளேட்ஸ் மென்பொருளினுடைய உதவியுடன் செய்யமுடியும் செயல்பாடுகள் எவை?

- A கோப்பு மெனுவில் இருந்து எக்ஸ்போர்ட் சொடுக்கு (கிளிக்) செய்து சிமுலேஷன்களை படவடிவிற்கு மாற்றலாம்.
- B புவித்தட்டு அசைவால் ஒவ்வொரு காலகட்டத்திலும் புவித்தட்டுகளுக்கு இடமாறுதல் உற்றநோக்கலாம்.
- C Measure கருவி பயன்படுத்தி புவிச்சிறப்புகள் அறியலாம்.
- D ஜி பிளேட்ஸ் மென்பொருளில் உட்படுத்தப்படுவது எல்லா தரவுக்கோப்புகளும் படக் கோப்புகளுமே.
- E ராஸ்டர் படங்களை உட்படுத்தி க்காட்சிப்படுத்தவும் பகுப்பாயவும் முடியும் .

#### Correct Answers:

- B புவித்தட்டு அசைவால் ஒவ்வொரு காலகட்டத்திலும் புவித்தட்டுகளுக்கு ஏற்படும் இடமாறுதல் உற்றநோக்கலாம்.
- E ராஸ்டர் படங்களை உட்படுத்தி க்காட்சிப்படுத்தவும் பகுப்பாயவும் முடியும் .